


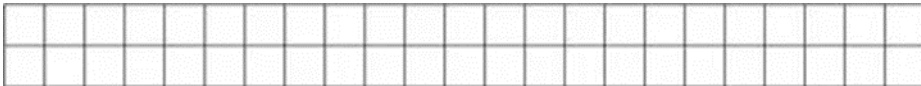
Фамилия, имя \_\_\_\_\_

1. Начерти прямоугольник со сторонами 3 см и 4 см и **вычисли** его периметр.



Ответ: \_\_\_\_\_

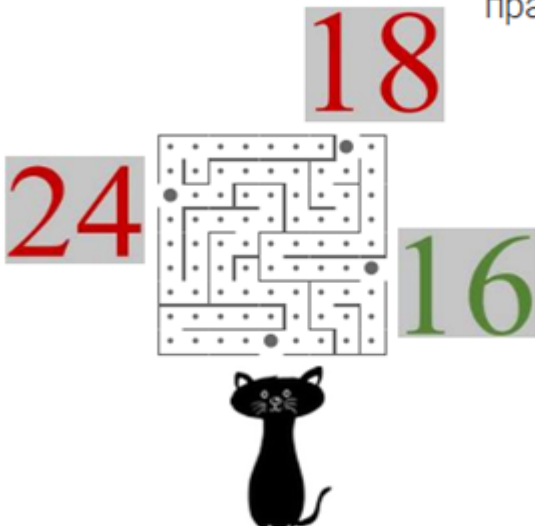
2. **Вычисли** периметр картинки.



Ответ: \_\_\_\_\_

3.

Ширина прямоугольника 4 см, длина – на 4 см больше. Найдите периметр этого прямоугольника и пройдите по лабиринту путь к правильному ответу.



---

---

---