

10

14

17

л

а

е

2	20	18
и	п	о

15		
X		



Ю. А. Гагарин

$$7 + 4 = 10 + 1 = 11$$



x + 7

= 19

x

-

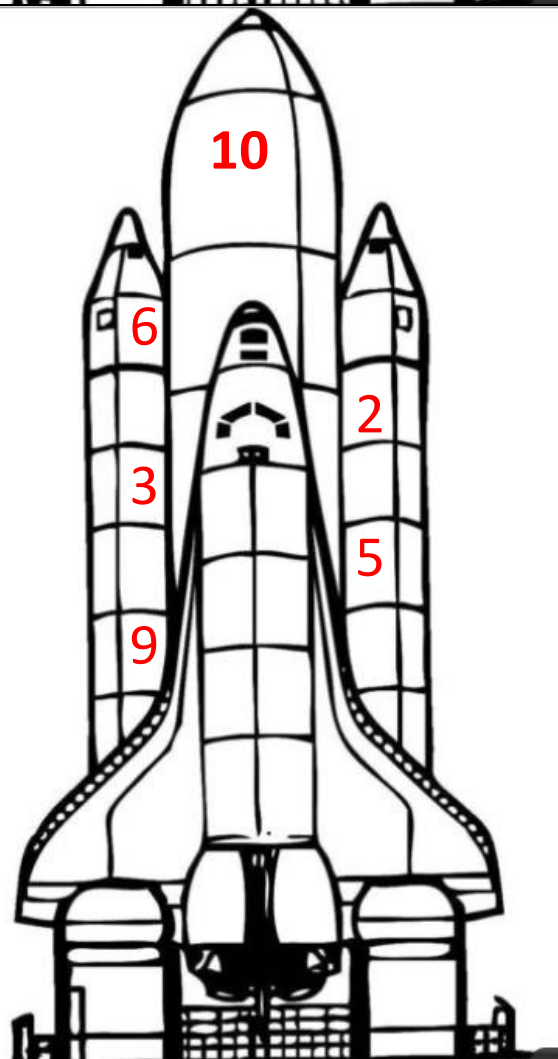
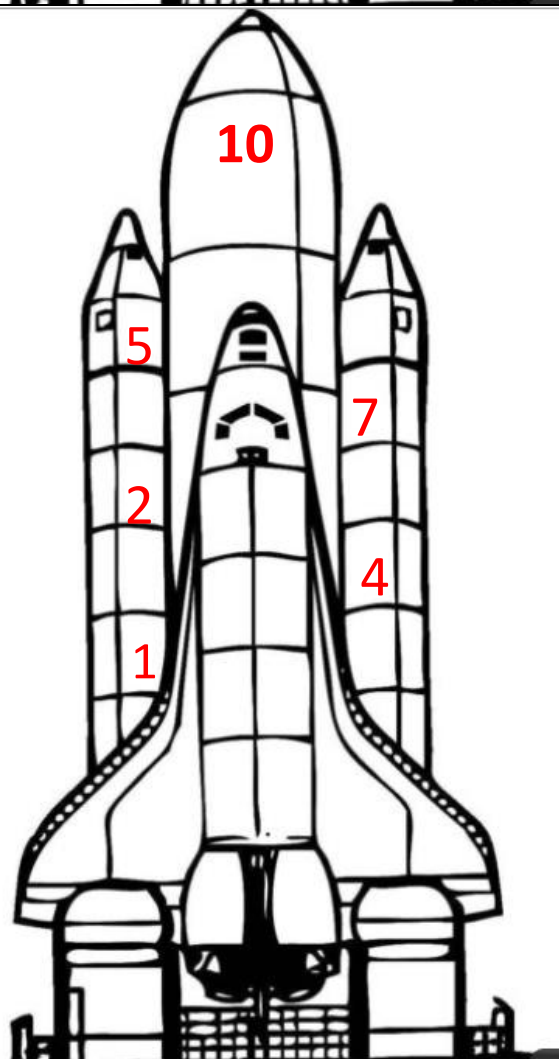
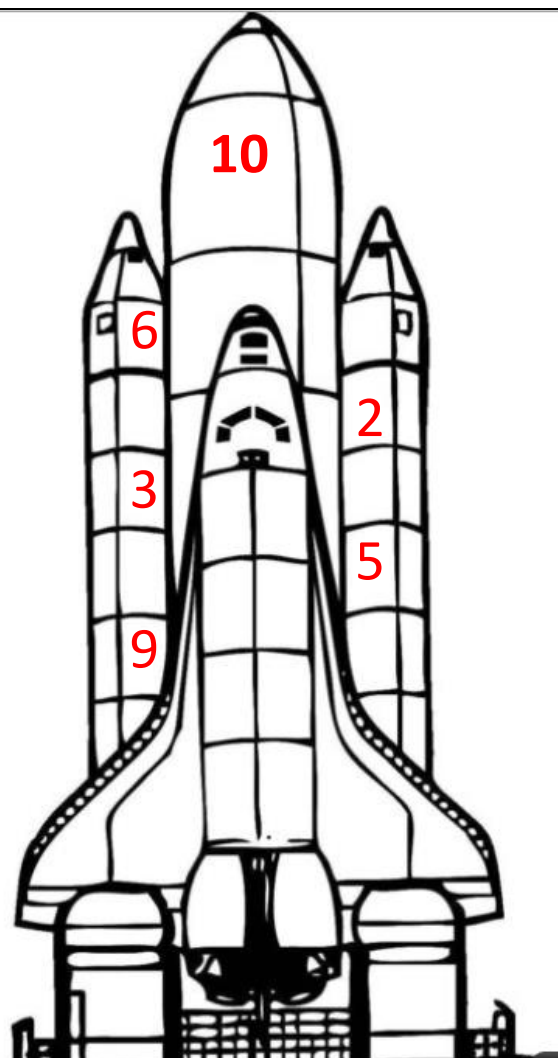
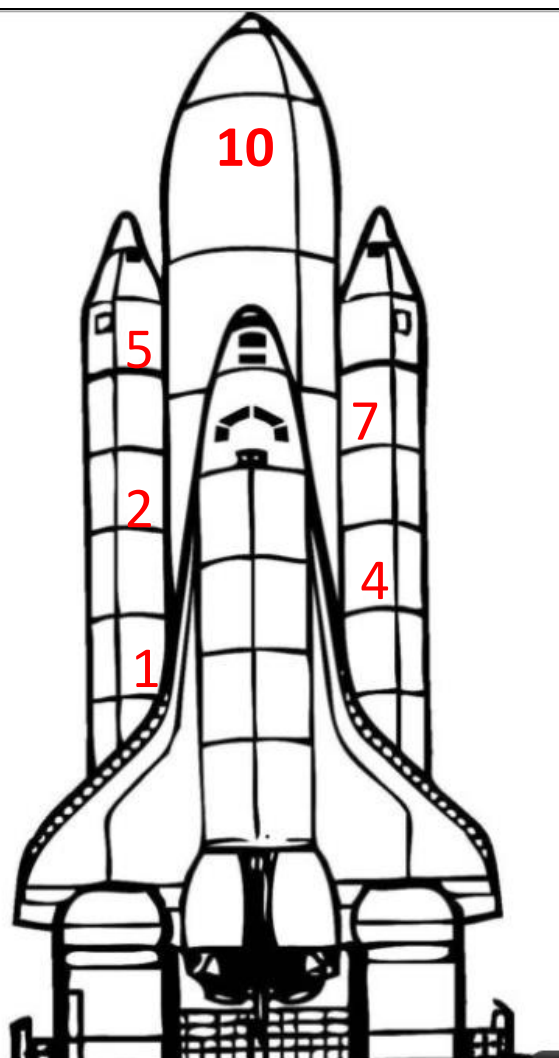
8

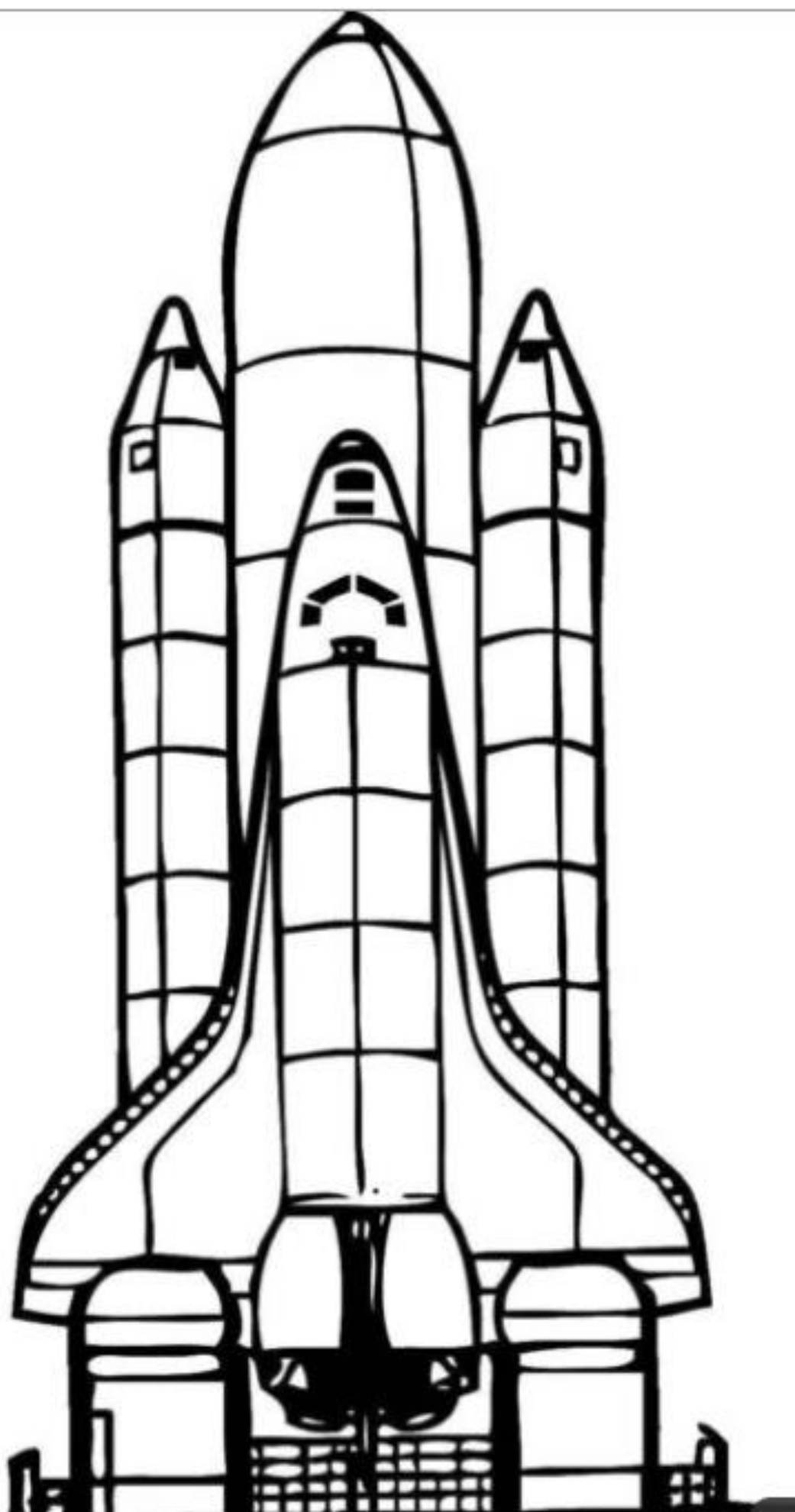
=

7

16 — x

= 5









Составьте по рисунку задачу и решите её.



Составьте по рисунку задачу и решите её.



Составьте по рисунку задачу и решите её.



Составьте по рисунку задачу и решите её.



Рассмотри рисунок и выполни задания.



1. У кого из ребят больше монет и на сколько?

Ответ: у _____.

В ответ запиши только имя.

Ответ: больше на _____ м.

В ответ запиши только число.

2. У кого из ребят больше денег и на сколько?

Ответ: у _____.

В ответ запиши только имя.

Ответ: больше на _____ руб.

В ответ запиши только число.

Рассмотри рисунок и выполни задания.



1. У кого из ребят больше монет и на сколько?

Ответ: у _____.

В ответ запиши только имя.

Ответ: больше на _____ м.

В ответ запиши только число.

2. У кого из ребят больше денег и на сколько?

Ответ: у _____.

В ответ запиши только имя.

Ответ: больше на _____ руб.

В ответ запиши только число.

Рассмотри рисунок и таблицу.



Вставь все пропущенные числа в таблицу.

Полка	Количество на полке		
	Метеоритов (шт.)	Свободных мест	Мест для образцов (шт.)
Верхняя		2	5
Средняя	3		
Нижняя			5


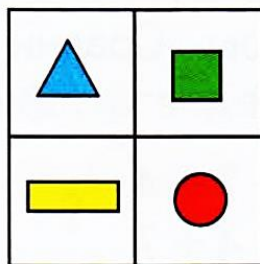


Рассмотри рисунок и таблицу.




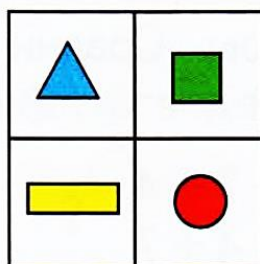


Вставь все пропущенные числа в таблицу.

Полка	Количество на полке		
	Метеоритов (шт.)	Свободных мест	Мест для образцов (шт.)
Верхняя		2	5
Средняя	3		
Нижняя			5


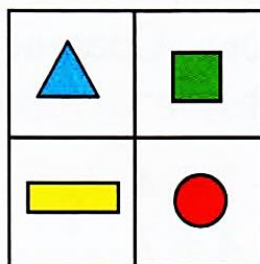


Найди закономерность. Как надо заполнить пустые клетки?



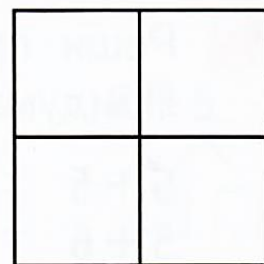



Найди закономерность. Как надо заполнить пустые клетки?



Найди закономерность. Как надо заполнить пустые клетки?



Найди закономерность. Как надо заполнить пустые клетки?



Реши задачу.

На конкурс рисунков Аня нарисовала 7 планет, а Ваня – на 2 меньше. Сколько всего рисунков нарисовали Аня и Ваня?

Реши задачу.

На конкурс рисунков Аня нарисовала 7 планет, а Ваня – на 2 меньше. Сколько всего рисунков нарисовали Аня и Ваня?

Реши задачу.

На конкурс рисунков Аня нарисовала 7 планет, а Ваня – на 2 меньше. Сколько всего рисунков нарисовали Аня и Ваня?

Реши задачу.

На конкурс рисунков Аня нарисовала 7 планет, а Ваня – на 2 меньше. Сколько всего рисунков нарисовали Аня и Ваня?

Реши задачу.

На конкурс рисунков Аня нарисовала 7 планет, а Ваня – на 2 меньше. Сколько всего рисунков нарисовали Аня и Ваня?

Реши задачу.

На конкурс рисунков Аня нарисовала 7 планет, а Ваня – на 2 меньше. Сколько всего рисунков нарисовали Аня и Ваня?

$9 + 3$ $7 + 6$	$6 + 5$ $9 + 7$	$9 + 8$ $8 + 5$		$9 + 3$ $7 + 6$	$6 + 5$ $9 + 7$	$9 + 8$ $8 + 5$
--------------------	--------------------	--------------------	--	--------------------	--------------------	--------------------

$9 + 3$ $7 + 6$	$6 + 5$ $9 + 7$	$9 + 8$ $8 + 5$		$9 + 3$ $7 + 6$	$6 + 5$ $9 + 7$	$9 + 8$ $8 + 5$
--------------------	--------------------	--------------------	--	--------------------	--------------------	--------------------

$9 + 3$ $7 + 6$	$6 + 5$ $9 + 7$	$9 + 8$ $8 + 5$		$9 + 3$ $7 + 6$	$6 + 5$ $9 + 7$	$9 + 8$ $8 + 5$
--------------------	--------------------	--------------------	--	--------------------	--------------------	--------------------

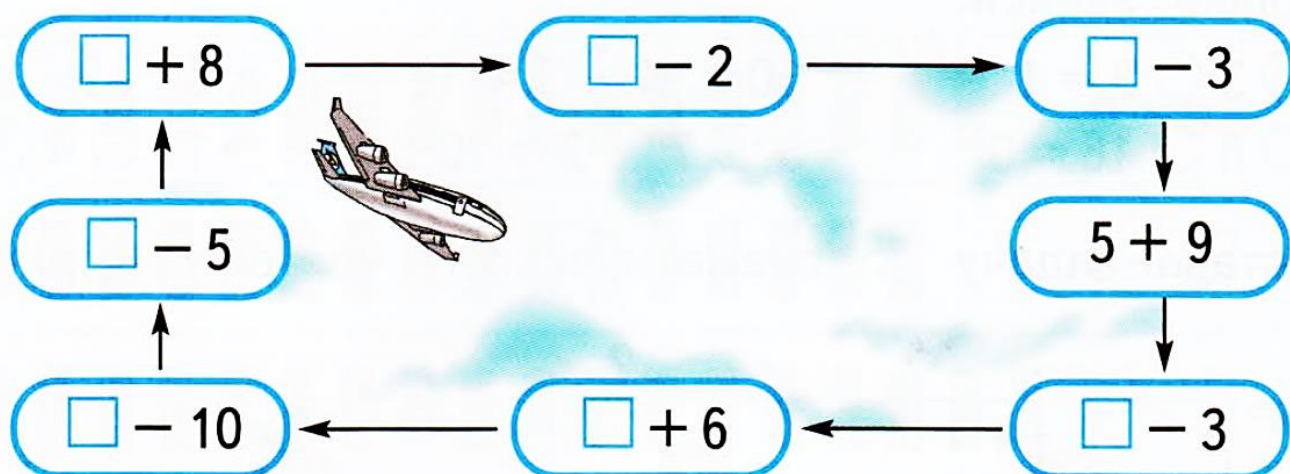
$9 + 3$ $7 + 6$	$6 + 5$ $9 + 7$	$9 + 8$ $8 + 5$		$9 + 3$ $7 + 6$	$6 + 5$ $9 + 7$	$9 + 8$ $8 + 5$
--------------------	--------------------	--------------------	--	--------------------	--------------------	--------------------

$9 + 3$ $7 + 6$	$6 + 5$ $9 + 7$	$9 + 8$ $8 + 5$		$9 + 3$ $7 + 6$	$6 + 5$ $9 + 7$	$9 + 8$ $8 + 5$
--------------------	--------------------	--------------------	--	--------------------	--------------------	--------------------

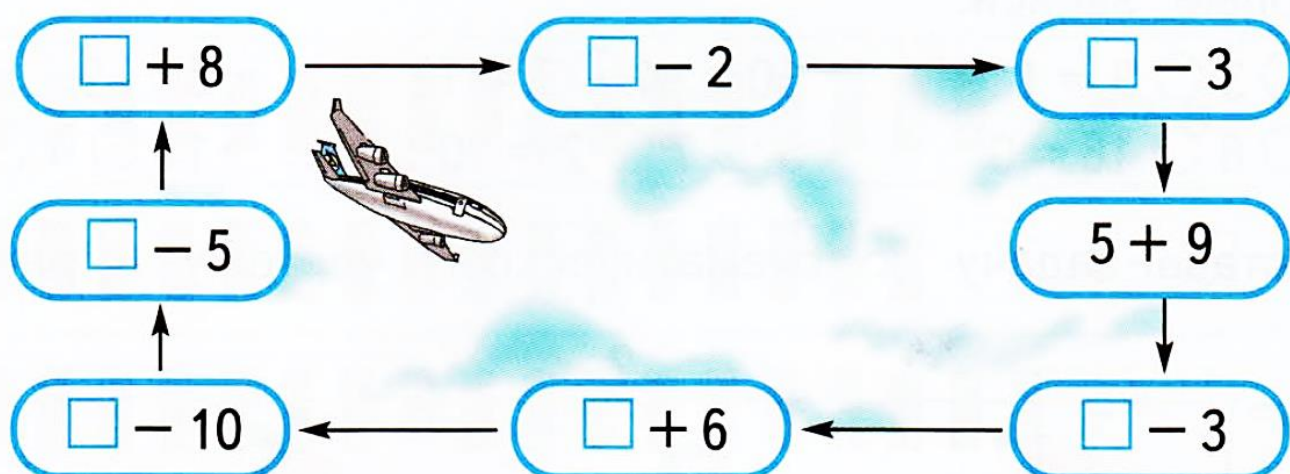
$9 + 3$ $7 + 6$	$6 + 5$ $9 + 7$	$9 + 8$ $8 + 5$		$9 + 3$ $7 + 6$	$6 + 5$ $9 + 7$	$9 + 8$ $8 + 5$
--------------------	--------------------	--------------------	--	--------------------	--------------------	--------------------

$9 + 3$ $7 + 6$	$6 + 5$ $9 + 7$	$9 + 8$ $8 + 5$		$9 + 3$ $7 + 6$	$6 + 5$ $9 + 7$	$9 + 8$ $8 + 5$
--------------------	--------------------	--------------------	--	--------------------	--------------------	--------------------

Составь и реши круговые примеры.



Составь и реши круговые примеры.



Составь и реши круговые примеры.

