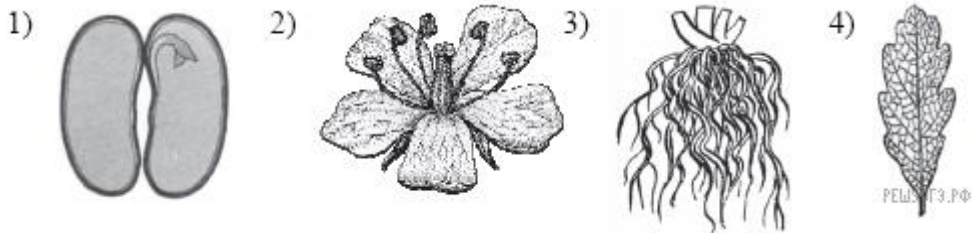


Тест

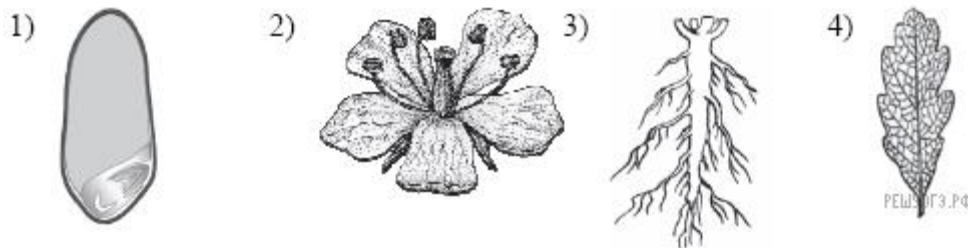
1. У представителей семейства Злаковые плод называют

- 1) зерновка
- 2) семянка
- 3) ягода
- 4) орех

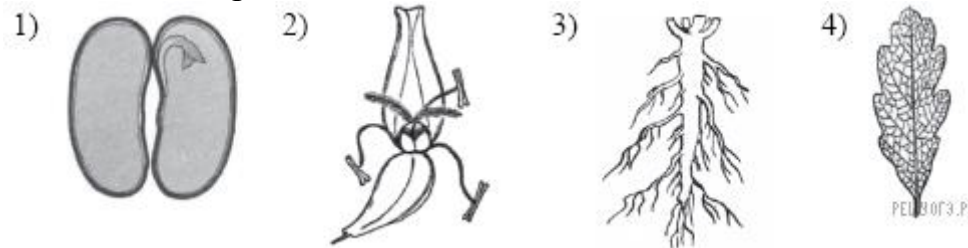
2. На каком рисунке изображен признак, характерный для класса Однодольные растения?



3. На каком рисунке продемонстрирован признак, характерный для класса Однодольные растения?



4. На каком рисунке изображен признак, характерный для класса Однодольные растения?



5. Стебель - соломина характерен для представителей семейства

- 1) Злаковые
- 2) Розоцветные
- 3) Лилейные
- 4) Крестоцветные

6. У представителей семейства Злаковые плод называют

- 1) зерновка
- 2) семянка
- 3) ягода
- 4) орех