





КАРТОЧКА №2.15.

Продолжите предложения:

- а) Изображение на экране монитора структуры готового к работе компьютера называется _____.
- б) На Рабочем столе размещаются небольшие картинки объектов: _____ и _____ (картинки с небольшими стрелочками в нижнем левом углу).
- в) Значок _____ обеспечивает доступ к различным устройствам компьютера.
- г) В _____ отправляется все то, что уже не нужно хранить в памяти компьютера.
- д) Значок _____ поможет быстро найти созданные пользователем рисунки и другие документы.
- е) Если компьютер связан с другими компьютерами, то на Рабочем столе обязательно присутствует значок _____.

КАРТОЧКА №2.18–21.

№ п/п	Задание	Рисунок
1	Обведите ту кнопку, на которой необходимо щёлкнуть, чтобы увеличить окно программы.	
2	Обведите ту кнопку, на которой необходимо щёлкнуть, чтобы окно программы не занимало весь экран	
3	Обведите ту кнопку, на которой необходимо щёлкнуть, чтобы закрыть окно программы	
4	Обведите ту кнопку, на которой необходимо щёлкнуть, чтобы свернуть окно программы	

5 Нарисуйте вид указателя мыши в следующих ситуациях:

а) при перетаскивании окна

б) при изменении ширины окна

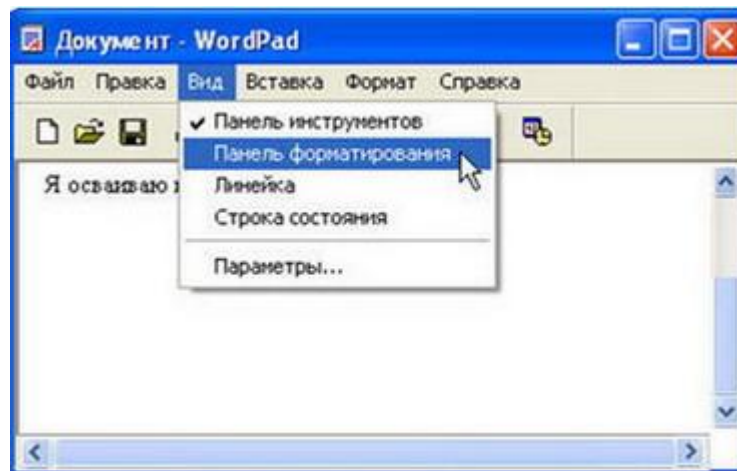
в) при изменении высота окна

г) при одновременном изменении высоты и ширины окна

Ответы

КАРТОЧКА №2.23.

Соедините стрелками надписи с соответствующими им элементами рисунка.



Выбранный пункт меню

Название открытого меню

Строка меню

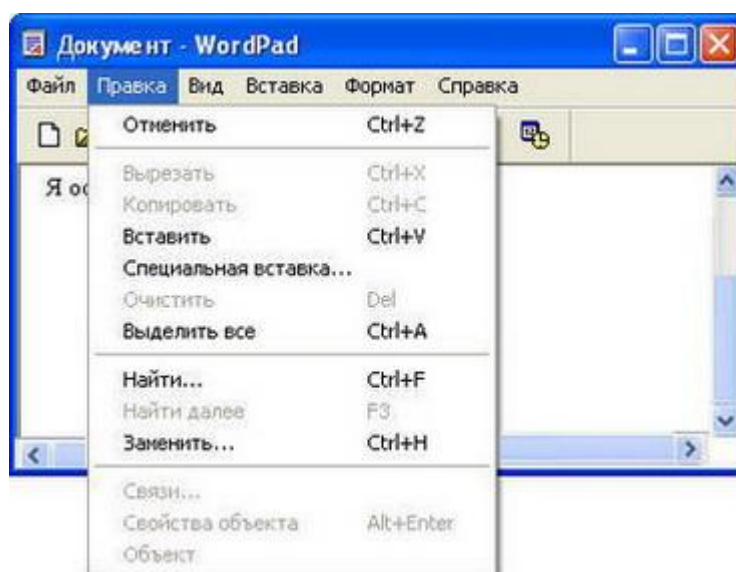
Открытое меню

Пункт меню, выбор которого приведёт к появлению диалогового окна

Ответы

КАРТОЧКА №2.24.

Запишите:

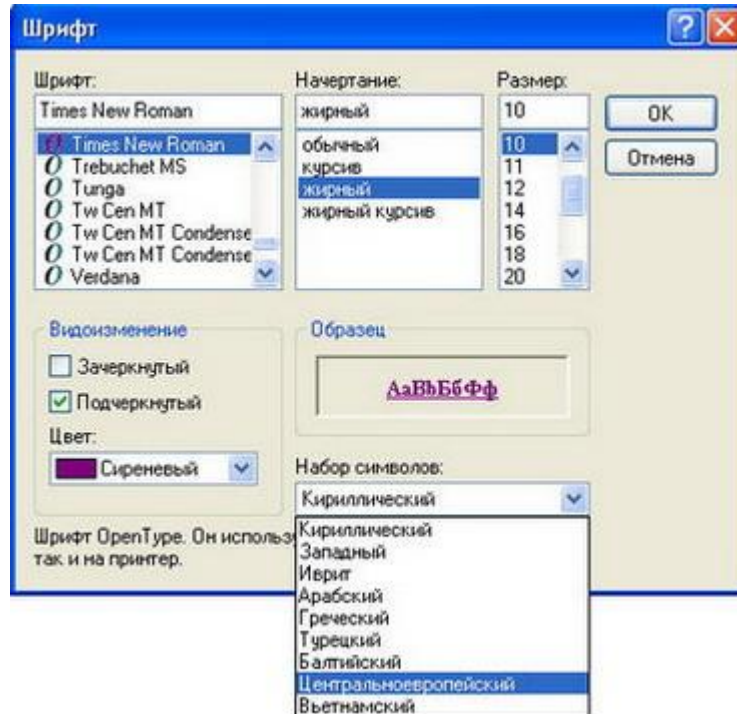


1	Недоступные для выполнения команды меню Правка
2	Название открытого меню
3	Команду, соответствующую клавиатурной комбинации {Ctrl} + {V}
4	Комбинацию клавиш, соответствующую команде Выделить все
5	Пункты меню, выбор которых приведёт к появлению диалоговых окон

Ответы

КАРТОЧКА №2.25.

Соедините стрелками надписи с соответствующими им элементами рисунка.



Раскрывающиеся списки

Флажки

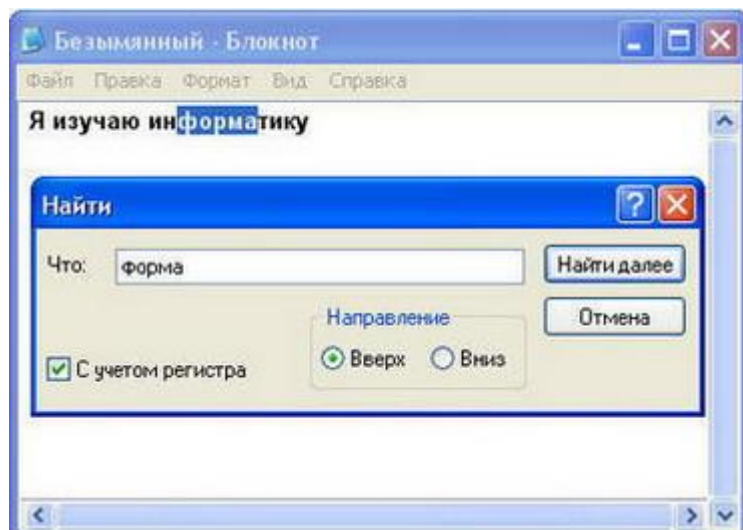
Списки

Командные кнопки

Ответы

КАРТОЧКА №2.26.

Соедините стрелками надписи с соответствующими им элементами рисунка.



Флажок

Поле ввода

Переключатель

Ответы

ОТВЕТЫ НА КАРТОЧКИ С ЗАДАНИЯМИ

5 класс

КАРТОЧКА №2.1.

1. Принтер.
2. Акустические колонки.
3. Монитор.
4. Процессор.
5. Клавиатура.
5. Мышь.
7. Микросхемы памяти.

3. Жёсткий диск.
9. Дискковод гибких дисков.
10. Дискковод компакт-дискков.

КАРТОЧКА №2.2.

1. VI.
2. I.
3. VIII.
4. V.
5. II.
5. IV.
7. III.
8. IX.
9. VII.
10. XI.
11. X.

КАРТОЧКА №2.5.




КАРТОЧКА №2.10.

1. {Shift} + {Alt}
2. {Shift} + {буква}
3. {Caps Lock}
4. {Shift} + {символ}
5. {Delete}
5. {Back Space}
7. {Num Lock}

КАРТОЧКА №2.11.


1. машина
2. малина
3. шина
4. Маша
5. молодец
5. лапа
7. молоток
3. риск
9. стих






КАРТОЧКА №2.12.



[Вернуться к заданиям](#)

КАРТОЧКА №2.13.

Элементы Рабочего стола	Рабочий стол
Значок Сетевое окружение	
Значок Мои документы	
Ярлык Мой компьютер	
Кнопка Пуск	

Панель задач	
	
Значок Корзина	
Часы	
Индикатор клавиатуры	
Папка Координаты	
Ярлык программы Microsoft Office Word 2003	

КАРТОЧКА №2.15.

- а) Рабочим столом.
- б) Значки и ярлыки.
- в) Мой компьютер.
- г) Корзину.
- д) Мои документы.
- е) Сетевое окружение.

КАРТОЧКА №2.18–21.

№ п/п	Рисунок
1	

2	
3	
4	
5	
а)	
б)	
в)	
г)	

[Вернуться к заданиям](#)

КАРТОЧКА №2.23.

КАРТОЧКА №2.24.

1. Вырезать, Копировать, Очистить, Найти далее, Связи, Свойства объекта, Объект
2. Правка
3. Вставить
4. {Ctrl} + {A}
5. Специальная вставка, Найти, Заменить

КАРТОЧКА №2.25.

КАРТОЧКА №2.26.