

Задание №1 по таблице

Пользуясь таблицей отметить:

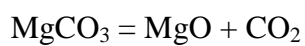
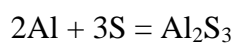
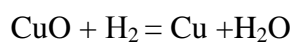
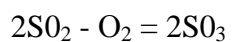
а) реакции соединения **Δ**

в) реакции замещения **О**

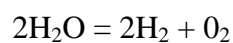
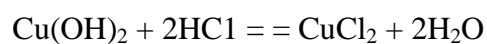
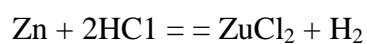
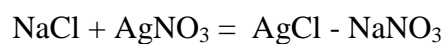
б) реакции разложения **□**

г) реакции обмена **Х**

<input type="checkbox"/>
<input type="checkbox"/>
<input type="checkbox"/>
<input type="checkbox"/>



<input type="checkbox"/>
<input type="checkbox"/>
<input type="checkbox"/>
<input type="checkbox"/>



ЗАДАНИЕ №4

Указать тип химических реакций, назвать классы исходных и полученных веществ, проставить степени окисления.

