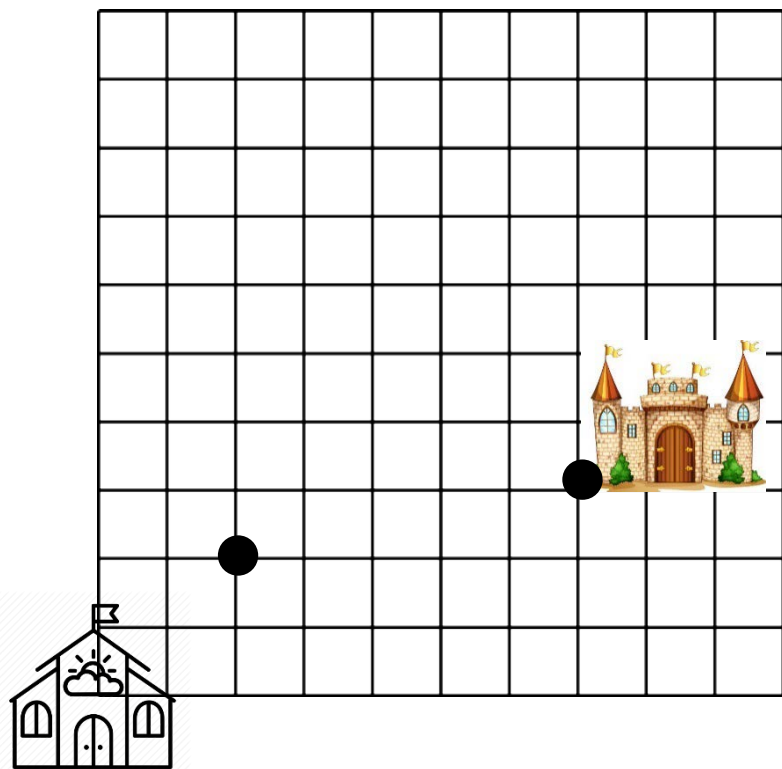
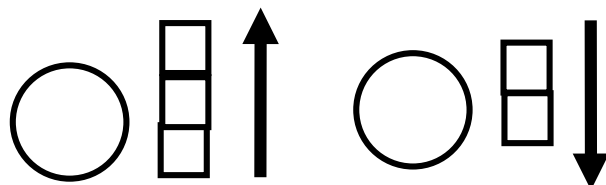
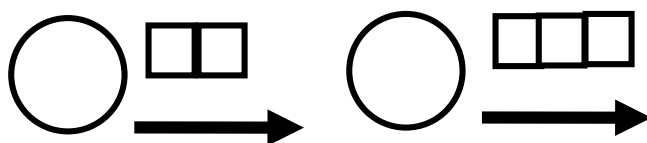
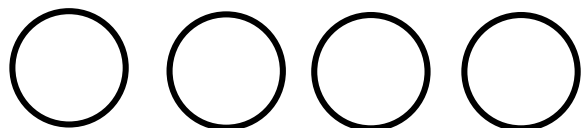
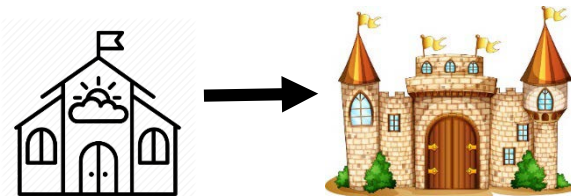


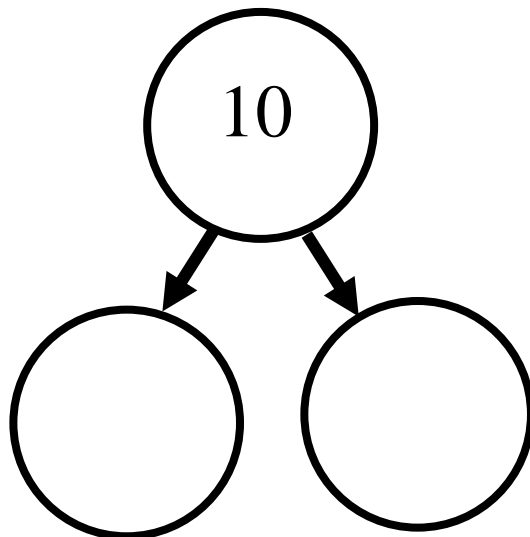
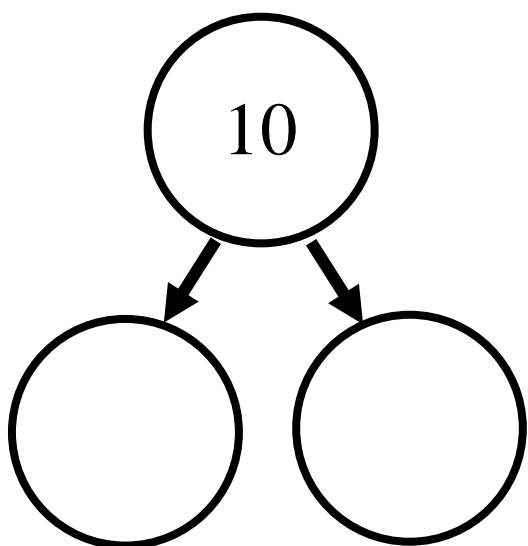
1. Нарисуй дорогу на клетках по схеме, цвет круга подскажет, как рисовать.



**СХЕМА  
«ПОРЯДОК ДВИЖЕНИЯ»**



2. Составьте и запишите число десять из двух меньших чисел.



3. Реши примеры и запиши ответы.

$2 + 3 = \square$

$5 - 3 = \square$

$4 + 4 = \square$

$4 - 2 = \square$

$7 + 2 = \square$

$8 - 2 = \square$

4. Сосчитай



Ф-3, К-3, Г-3, Ж-3

Б-3, Ф-3, С-3, Ц-3, З-3, Р-3

**Оцените себя сами, используя дорожку звезд**

